



# Prüfung am Ende der Jahrgangsstufe 10

Schriftliche Prüfung

Schuljahr:

2016/2017

Schulform: Oberschule (A-Kurs/EBR-Klasse und B-Kurs/FOR-Klasse)

Gesamtschule (Grund- und Erweiterungskurs)

## Mathematik

### Allgemeine Arbeitshinweise

Die Prüfungszeit beträgt 135 Minuten.

Jede Aufgabe und alle Teilaufgaben sind mit der zu erreichenden Punktzahl versehen.

Das soll Ihnen bei der Reihenfolge der Bearbeitung von Teilaufgaben helfen.

Die Schülerinnen und Schüler der **B- Kurse der Oberschulen und Erweiterungskurse der Gesamtschulen** müssen in der vorgegebenen Zeit **alle Aufgaben** lösen.

Die Schülerinnen und Schüler der **A- Kurse der Oberschulen und Grundkurse der Gesamtschulen** müssen in der vorgegebenen Zeit **nur die Aufgaben ohne Sternchen** lösen. Sie können bei zusätzlicher Lösung der Sternchenaufgaben weitere Punkte sammeln.

Bitte bearbeiten Sie alle Aufgaben im Aufgabenheft. Sollte der zur Verfügung stehende Platz nicht ausreichen, fügen Sie Ihre Ergänzungen auf einem gesonderten Blatt ein.

Alle Lösungswege müssen nachvollziehbar dokumentiert sein.

Denken Sie an Begründungen und vergessen Sie bei Textaufgaben nicht den Antwortsatz.

Falls Sie eine Lösung durch Probieren finden, müssen Sie Ihre Überlegungen ausreichend kommentieren.

Während der Arbeit können Sie den nicht programmierbaren, nicht grafikfähigen Taschenrechner, die Formelsammlung, das beiliegende Formelblatt (Doppelseite), Kurvenschablonen, Zeichengeräte sowie das Wörterbuch zur deutschen Rechtschreibung als Hilfsmittel benutzen.

Viel Erfolg bei der Bearbeitung der Aufgaben!

Dieser Teil wird von den Schülerinnen und Schülern ausgefüllt.

Name: .....

Klasse/Kurs: .....

Dieser Teil wird von der korrigierenden Lehrkraft ausgefüllt.

### Punktbewertung:

Aufgabe	Erreichte Punktzahl
1	
2	
3	
4	
5	
6	
7	
Gesamtpunktzahl	

Note \_\_\_\_\_

Punktwert \_\_\_\_\_

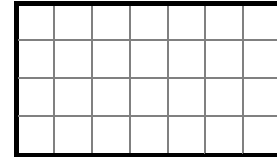
Datum \_\_\_\_\_

Unterschrift \_\_\_\_\_

**Aufgabe 1: Basisaufgaben**

**(10 Punkte)**

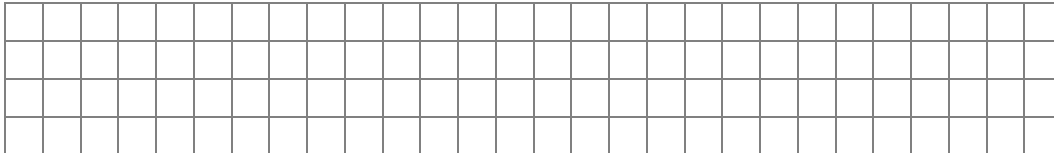
a) Schraffieren Sie  $\frac{6}{7}$  des Rechtecks.



(1 P)

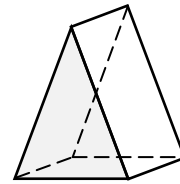
b) Eine Bohrmaschine kostet 120,00 €. An der Kasse erhält man 20 % Rabatt.  
Geben Sie den Rabatt in Euro an.

(1 P)



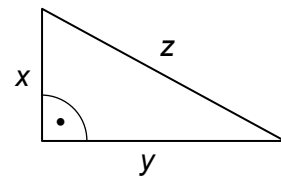
c) Die Abbildung zeigt ein Schrägbild eines Körpers.  
Kreuzen Sie an, welcher Körper abgebildet ist.

- Pyramide
- Prisma
- Quader



(1 P)

d) Kreuzen Sie an, welche der folgenden Gleichungen für dieses Dreieck gilt?



(1 P)

- $x^2 = y^2 + z^2$
- $z^2 = x^2 - y^2$
- $z^2 \cdot y^2 = x^2$
- $z^2 = x^2 + y^2$

e) Kreuzen Sie die kleinste Zahl an.


(1 P)

- 0,01
- $-10^3$
- $-10^2$
- 0,1

f) Zwei gleiche Münzen werden gleichzeitig geworfen.  
Es wird unterschieden, ob Zahl (Z) oder Wappen (W) oben liegt.  
Geben Sie die Anzahl der möglichen Ergebnisse an.



(1 P)

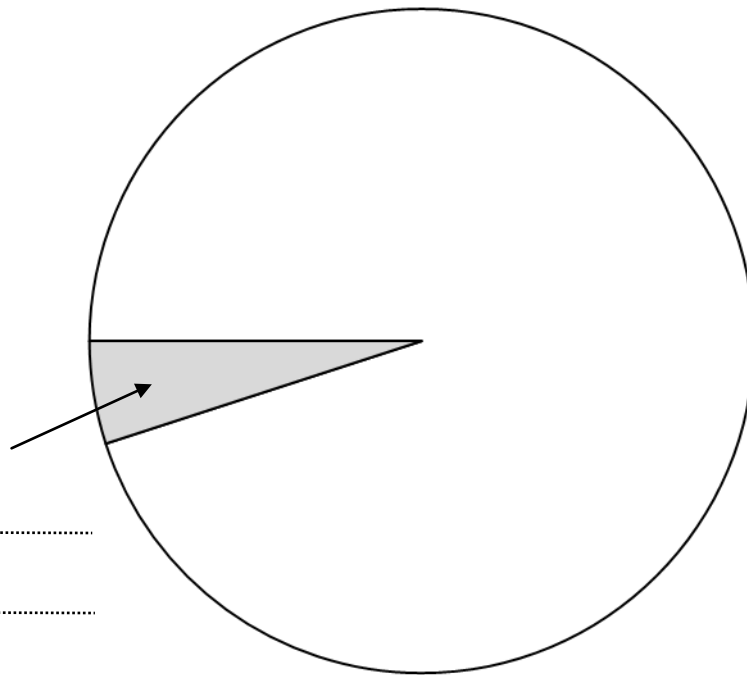






- c) Im Kreisdiagramm ist ein Anteil aus der Tabelle farbig dargestellt.  
Beschriften Sie diesen farbigen Anteil.

(3 P)




.....

.....

.....

Berechnen Sie die Winkelgröße, die der Anteil für „drittes Kind der Mutter“ haben muss.

Zeichnen Sie den Anteil für „drittes Kind der Mutter“ in das Kreisdiagramm ein und beschriften Sie diesen Anteil.















**Aufgabe 5: Funktionen****(12 Punkte)**

- a) Die Gerade  $g$  ist der Graph einer linearen Funktion. (3 P)  
Sie verläuft durch die Punkte  $K(-4|-1)$  und  $L(2|2)$ .

Zeichnen Sie die Gerade  $g$  in ein Koordinatensystem.




Weisen Sie nach, dass  $y = \frac{1}{2}x + 1$  eine Gleichung für die Gerade  $g$  ist.



- b) Der Punkt  $A(-10|y)$  liegt auf der Geraden  $g$  mit der Gleichung  $y = \frac{1}{2}x + 1$ . (2 P)


Berechnen Sie die  $y$ -Koordinate des Punktes  $A$ .








Geben Sie die Wahrscheinlichkeit dafür an, dass Ida die richtige Geheimnummer beim ersten Versuch einstellt.

A large grid of 20 columns and 20 rows, intended for the student to write their answer to the first question.

Ermitteln Sie die Wahrscheinlichkeit dafür, dass Ida die richtige Geheimnummer spätestens beim zweiten Versuch einstellt.

A large grid of 20 columns and 20 rows, intended for the student to write their answer to the second question.

**Aufgabe 7: Luftdruck****(9 Punkte)**

In Höhe des Meeresspiegels (0 km Höhe) beträgt der Luftdruck ungefähr 1000 hPa (Hektopascal).

Je höher man in der Erdatmosphäre steigt, desto geringer wird der Luftdruck. Er nimmt pro Kilometer um 13 % ab.

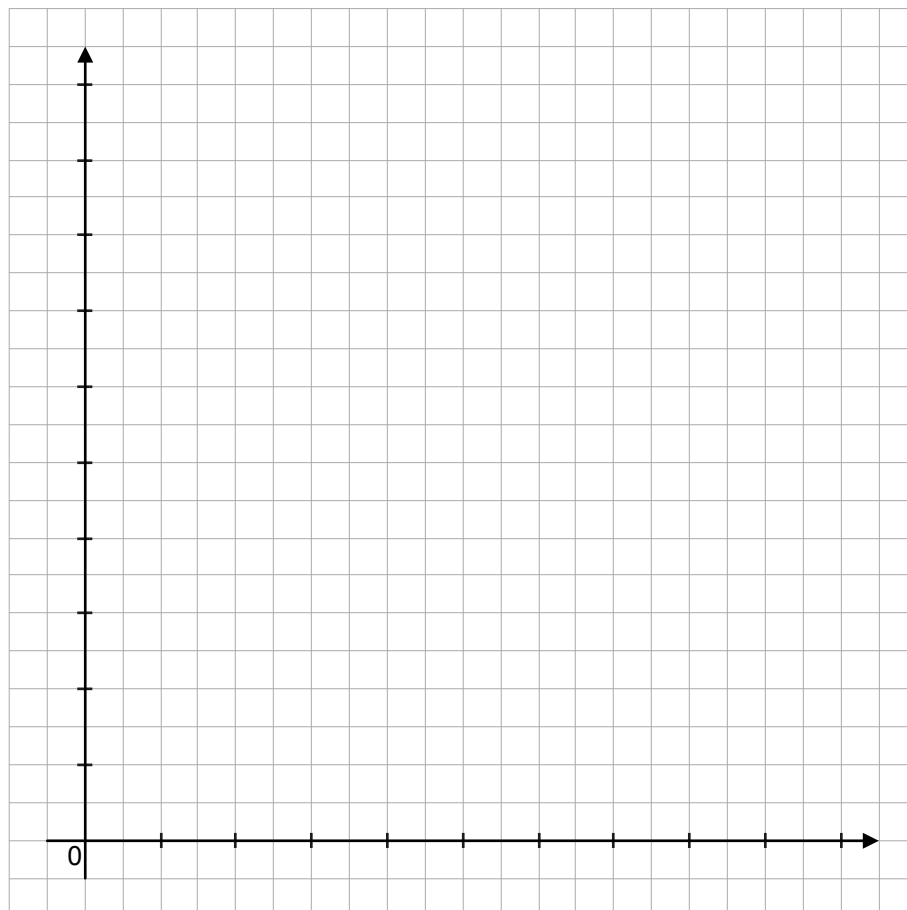
a) Ergänzen Sie die fehlenden Werte in der Tabelle.

(2 P)

<b>Höhe in km</b>	0	1	2	3	5	8	10
<b>Luftdruck in hPa</b>	1000	870		659	498		248

b) Vervollständigen Sie das Koordinatensystem und stellen Sie den Luftdruck in Abhängigkeit von der Höhe dar.

(4 P)



\*c) Die Abnahme des Luftdrucks kann mit einer Funktionsgleichung beschrieben werden.

(1 P)

Kreuzen Sie die richtige Gleichung an.

$y = 0,87 \cdot x$

$y = 1000 \cdot 0,87^x$

$y = x^{1,13}$

$y = 1000 \cdot 1,13^x$

d) Ein Bergsteiger misst einen Luftdruck von 573 hPa.

(2 P)

Entscheiden Sie, ob sich er sich in ca. 4 km Höhe befinden kann.  
Begründen Sie.

