



Prüfung am Ende der Jahrgangsstufe 10

Schriftliche Prüfung

Schuljahr:

2021/2022

Schulform: Oberschule (A-Kurs/EBR-Klasse und B-Kurs/FOR-Klasse)

Gesamtschule (Grund- und Erweiterungskurs)

Mathematik

Allgemeine Arbeitshinweise

Die Prüfungszeit beträgt 165 Minuten.

Jede Aufgabe und alle Teilaufgaben sind mit der zu erreichenden Punktzahl versehen. Das soll Ihnen bei der Reihenfolge der Bearbeitung von Teilaufgaben helfen.

Die Schülerinnen und Schüler der **B-Kurse der Oberschulen und Erweiterungskurse der Gesamtschulen** müssen in der vorgegebenen Zeit **alle Aufgaben** lösen.

Die Schülerinnen und Schüler der **A-Kurse der Oberschulen und Grundkurse der Gesamtschulen** müssen in der vorgegebenen Zeit **nur die Aufgaben ohne Sternchen** lösen. Sie können bei zusätzlicher Lösung der Sternchenaufgaben weitere Punkte sammeln.

Bitte bearbeiten Sie alle Aufgaben im Aufgabenheft. Sollte der zur Verfügung stehende Platz nicht ausreichen, fügen Sie Ihre Ergänzungen auf einem gesonderten Blatt ein.

Alle Lösungswege müssen nachvollziehbar dokumentiert sein.

Denken Sie an Begründungen und vergessen Sie bei Textaufgaben nicht den Antwortsatz.

Falls Sie eine Lösung durch Probieren finden, müssen Sie Ihre Überlegungen ausreichend kommentieren, wenn dies der Operator in der Aufgabenstellung verlangt.

Während der Arbeit können Sie den nicht programmierbaren, nicht graphikfähigen Taschenrechner, die Formelsammlung, das beiliegende Formelblatt (Doppelseite), Kurvenschablonen, Zeichengeräte sowie das Wörterbuch zur deutschen Rechtschreibung als Hilfsmittel benutzen.

Viel Erfolg bei der Bearbeitung der Aufgaben!

Dieser Teil wird von den Schülerinnen und Schülern ausgefüllt.

Name:

Klasse/Kurs:

Dieser Teil wird von der korrigierenden Lehrkraft ausgefüllt.

Punktbewertung:

Aufgabe	Erreichte Punktzahl
1	
2	
3	
4	
5	
6	
7	
Gesamtpunktzahl	

Note _____

Punktwert _____

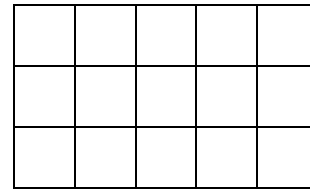
Datum _____

Unterschrift _____

Aufgabe 1: Basisaufgaben

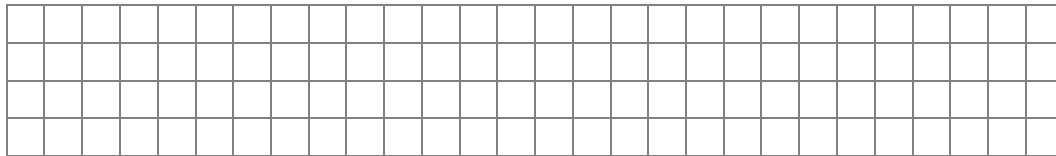
(10 Punkte)

a) Markieren Sie 20 % der nebenstehenden Fläche. (1 P)



b) Auf dem Markt kosten 3 kg Äpfel 4,80 €. (1 P)

Geben Sie den Preis für 5 kg Äpfel an.



c) Gegeben ist die Gleichung $5 - 2x = 3x - 25$. (1 P)

Kreuzen Sie an, welche Zahl die Lösung der Gleichung ist.

$x = 2$

$x = 4$

$x = 6$

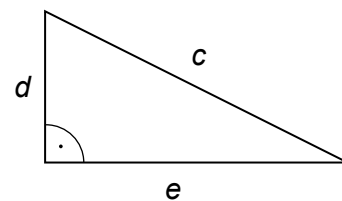

$x = 8$

d) In der dargestellten Woche waren es im Durchschnitt 20°C . (1 P)

Ergänzen Sie die fehlende Temperatur.

Montag	Dienstag	Mittwoch	Donnerstag	Freitag	Samstag	Sonntag
21°C	20°C	19°C	22°C	20°C		20°C

e) Geben Sie eine Gleichung zur Berechnung des Flächeninhalts des Dreiecks an. (1 P)



f) Jeder fünfte Jugendliche bekommt kein Taschengeld. (1 P)

Kreuzen Sie an, wie viel Prozent das sind.

5 %


20 %

25 %

50 %


- b) Zeigen Sie, dass in den Becher 200 ml Flüssigkeit passen. (2 P)

Hinweis: 1 cm³ entspricht 1 ml




- *c) Ein Stab wird zum Umrühren genutzt. Von dem Stab sind 2 cm außerhalb des Bechers, wenn er diagonal im Becher steht (siehe Skizze).

Bestimmen Sie die Länge des Stabes.




(3 P)

(Skizze nicht maßstabsgerecht)




- *d) Ein größerer Becher soll ein Volumen von 425 ml haben. Die Höhe von 7 cm wird beibehalten. (3 P)

Berechnen Sie den Radius dieses Bechers.



d) Berechnen Sie die Länge der Seite a .

(2 P)



*e) Ermitteln Sie den Flächeninhalt des Dreiecks ABC .

(3 P)

