



- Wie schwer ist eine Kugel?  _____
- Beschreibe deinen Lösungsweg.


 _____


Aufgabe 3

a) Susi löst die Gleichung $4 \cdot (x + 30) = 140 + 2 \cdot x$.

Sie ermittelt für x die Zahl 10.


- Hat Susi Recht? Begründe.

 _____

b) Der Juni war zu trocken. Nur an einem Zehntel der Tage hat es geregnet.
 Tom antwortet: „Also hat es an 10 Tagen geregnet.“

- Hat Tom Recht? Begründe mit einer passenden Gleichung.

 _____
